

سال نو مبارک



عیدانه پایه پنجم

دبستان علامه طباطبایی





سال نو مبارک

فارسی

۱- درباره مفهوم کلی حکایت یک بند بنویسید.

مردکی را چشم درد خاست. پیش بیطار رفت که دوا کن. بیطار از آنچه که در چشم خرها می کرد در چشم او ریخت و کور شد. مردک شکایت به قاضی برد و گفت: این بیطار من را خر فرض کرد و از آنچه که در چشم خرها می ریخت در چشم من فرو ریخت و کور شدم، قاضی گفت: بر بیطار هیچ تاوان نیست، اگر تو خر نبودی با حضور طیبیان حاذق پیش بیطار نمی رفتی.

ندهد هوشمند روشن رای
به فرومایه، کارهای خطیر

بوریا باف اگر چه بافنده است
نبرندش به کارگاه حریر

.....
.....
.....
.....
.....



سال نو مبارک

دوست خوبم سلام؛

شروع سال نو و آمدن فصل بهار را به تو و خانواده ات تبریک می گویم.
امیدوارم در کنار خانواده، محظت خوبی را سپری کنی.

در این عیدانه فعالیت یابی برای شما در نظر گرفته شده است. لازم است که شما عزیزان با برنامه ریزی مناسب آن ها را انجام و پس از پایان تعطیلات، نتایج را به کلاس و به آموزگار خود ارائه دهید.

در صورتی که سوالی برایت پیش آمد می توانی روزهای ۲۵ و ۲۶ اسفند از طریق سامانه می سام با آموزگار در ارتباط باشی و ابهامات خود را بر طرف نمایی.



سال نو مبارک

فارسی

۴- در مورد رسم‌های فال‌گوش‌نشینی، قاشق‌زنی، بوته‌افروزی و کوزه‌شکنی در جشن چهارشنبه‌سوری تحقیق کنید و درباره آن بنویسید.

.....
.....
.....
.....
.....
.....



سرخ‌پز تو از من، زردی من از تو

بویک در آن گوش‌نشینی است
سرخ‌پز تو از من، زردی من از تو



سال نو مبارک

فارسی

۲- معنی کلمات زیر را از فرهنگ لغت بیابید و مقابل آن بنویسید.

بیطار: حاذق: فرومایه:

بوریا باف: خطیر: حریر:

۳- در شاهنامه‌ی فردوسی هنگامی که گیو، بیژن را نمی‌یابد و برای چاره‌جویی نزد

کیخسرو می‌رود، چه پاسخی می‌شنود؟ پاسخ او به چه موضوعی اشاره دارد؟

.....
.....
.....
.....
.....

هر روز نوروز نوروز است





سال نو مبارک

ریاضی

۱- در جدول زیر آمار مربوط به دو تیم اول ۶ لیگ معتبر اروپایی تا تاریخ یکم اسفند ۱۴۰۱ (بیستم فوریه سال ۲۰۲۳) آمده است. با توجه به این جدول، به سوالات پاسخ دهید.

تعداد بازی‌های مانده	گل خورده	دادن شانس گل به حریف	گل زده	موقعیت گل زدن	تعداد بازی	Laliga (Spain)
۱۶	۷	۳۳	۴۵	۱۳۰	۲۲	۱. Barcelona
۱۶	۱۷	۴۱	۴۶	۱۳۰	۲۲	۲. Real Madrid
تعداد بازی‌های مانده	گل خورده	دادن شانس گل به حریف	گل زده	موقعیت گل زدن	تعداد بازی	Premier League (England)
۱۵	۲۳	۴۶	۵۱	۱۲۲	۲۳	۱. Arsenal
۱۴	۲۴	۴۰	۶۰	۱۴۴	۲۴	۲. Manchester City
تعداد بازی‌های مانده	گل خورده	دادن شانس گل به حریف	گل زده	موقعیت گل زدن	تعداد بازی	Bundesliga (Germany)
۱۳	۲۱	۴۴	۶۱	۱۶۸	۲۱	۱. Bayern Munchen
۱۳	۲۷	۵۲	۴۴	۱۲۴	۲۱	۲. Borussia Dortmund
تعداد بازی‌های مانده	گل خورده	دادن شانس گل به حریف	گل زده	موقعیت گل زدن	تعداد بازی	Serie A (Italy)
۱۵	۱۵	۳۸	۵۶	۱۴۰	۲۳	۱. Napoli
۱۵	۲۷	۵۴	۴۴	۱۱۷	۲۳	۲. Inter Milan
تعداد بازی‌های مانده	گل خورده	دادن شانس گل به حریف	گل زده	موقعیت گل زدن	تعداد بازی	Ligue ۱ (France)
۱۴	۲۳	۵۸	۵۹	۱۶۱	۲۴	۱. Paris saint-Germain
۱۴	۳۱	۶۴	۵۳	۱۳۹	۲۴	۲. Monaco
تعداد بازی‌های مانده	گل خورده	دادن شانس گل به حریف	گل زده	موقعیت گل زدن	تعداد بازی	Liga (Portugal)
۱۴	۱۲	۲۵	۵۱	۱۲۶	۲۰	۱. Benfica
۱۳	۱۲	۳۱	۴۸	۱۲۶	۲۱	۲. Porto



سال نو مبارک

فارسی

۵- قسمت دوازدهم انیمیشن «مثل نامه» را از سایت آپارات تماشا کنید و خلاصه‌ی آن را در هفت خط بنویسید.

.....

.....

.....

.....

.....

.....

.....

سال نو مبارک



وَاللّٰهُمَّ صَلِّ وَسَلِّمْ عَلَىٰ سَائِرِ الْمُرْسَلِيْنَ
وَأَقْبَلْ مِنْهُمْ بِرَحْمَتِكَ يَا أَرْحَمَ الرَّاحِمِيْنَ
ما تعلبت ابدا بربا بون ابامجول الخوان



سال نو مبارک

ریاضی

ت) در لیگ فرانسه کدام تیم با توجه به موقعیت‌های گلی که داشته است در گل زدن موفق‌تر بوده است؟

ث) در لیگ پرتغال حریفان کدام تیم با توجه به موقعیت‌هایی که داشتند در گلزنی موفق‌تر بوده‌اند؟ (از درصد استفاده کنید.)

ج) با توجه به بازی‌های باقی‌مانده برای هر کدام از تیم‌ها گل‌های زده و خورده هر کدام را تا پایان فصل پیش‌بینی کنید.
راهنمایی: برای این سوالات می‌توانید از ماشین حساب استفاده کنید.



سال نو مبارک

ریاضی

الف) در لیگ اسپانیا هر کدام از دو تیم چند درصد موقعیت‌های خود را تبدیل به گل کرده‌اند؟

ب) در لیگ انگلستان چند درصد از شانس‌های گل حریف تبدیل به گل شده است؟ (برای هر تیم را جدا محاسبه کنید.)

پ) در لیگ آلمان کدام تیم با توجه به موقعیت‌های گلی که داشته در گل زدن موفق‌تر بوده است؟ (راهنمایی: از نسبت موقعیت گل به گل زده استفاده کنید.)



سال نو مبارک

ریاضی

۴- محاسبات زیر را انجام دهید.

$$3/52 - 1 \frac{5}{8} =$$

$$3 \times (\frac{1}{4} - \frac{1}{5}) + 4/7 - 1 \frac{1}{2} =$$

$$15 - 2 \frac{3}{4} + 2 \frac{1}{4} =$$

5/93

× 6/47

9

- 7/349

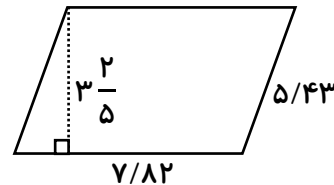
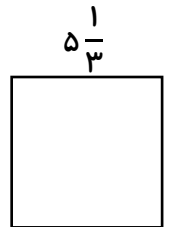


سال نو مبارک

ریاضی

۲- یک دیوار به ابعاد ۳/۵ متر و ۴۷۵ سانتی متر را می خواهیم رنگ کنیم. اگر برای هر متر مربع ۱/۷۸ کیلوگرم رنگ لازم داشته باشیم، برای رنگ کردن این دیوار به چند کیلوگرم رنگ نیاز داریم؟

۳- محیط و مساحت شکل های زیر را بدست آورید.





سال نو مبارک

علوم

۳- علت این که افراد ناشنوا نمی توانند صداها را بشنوند چیست؟

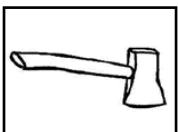

(یک مورد را با دلیل علمی بنویسید.)



.....
.....
.....
.....

۴- هر کدام از ابزارهای زیر در کدام گروه از ماشین‌های ساده قرار

می‌گیرند؟ کاربرد هر کدام را بنویسید.



.....
.....
.....
.....




سال نو مبارک

علوم

۱- آزمایش زیر را انجام دهید و در مورد نقطه کور چشم کاوش کنید و اطلاعات

جمع‌آوری شده خود را در چند سطر بنویسید.



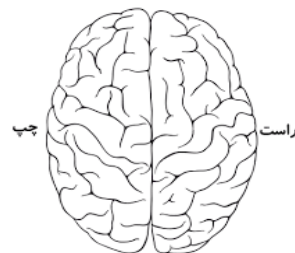
به دایره میانی تیره‌گرز پس از بهترین تائیه فواید
دید که بتدریج سایه های اطراف تأییر میگردد !!!

.....
.....
.....
.....
.....

۲- در مورد سوال زیر کاوش کنید.

مغز ما دو نیمکره راست و چپ دارد. چرا نیمکره راست، نیمکره چپ و نیمکره چپ،

نیمکره راست را کنترل می‌کند؟



چپ راست

.....
.....
.....



سال نو مبارک

اجتماعی

۱- در دوران نوروز به کدام خطه‌ی ایران زمین سفر کرده‌اید؟ (دریای خزر، تهران، نواحی داخلی و نواحی کوهپایه‌ای رشته‌کوه‌های البرز، زاگرس و ...) توضیح مختصری درباره‌ی آن ناحیه و ویژگی‌های آن شهر بنویسید.

.....
.....
.....
.....
.....
.....
.....
.....
.....
.....
.....

۲- خاطره‌ی خود را از سفر با یکی از وسایل حمل‌ونقل در ایام نوروز بیان کنید.

.....
.....
.....
.....
.....




سال نو مبارک

علوم

۵- اگر در روز طبیعت به گردش رفتید مقداری از خاک آن منطقه را با خود به همراه بیاورید تا بعد از تعطیلات در کلاس به صورت گروهی در مورد تفاوت آن‌ها با هم بحث و گفت‌وگو کنیم.

نکته: مقدار خاک زیاد نباشد و نکات بهداشتی و ایمنی را رعایت کنید و از بزرگتر خود کمک بگیرید.






سال نو مبارک

اجتماعی

۵- در صورت دیدوبازدید از آثار و موزه‌ها یا سفر به مناطق مختلف، سفرنامه یا خاطراتی از منطقه مورد نظر بنویسید و عکس‌هایی از منطقه‌ی مربوط بچسبانید.

.....
.....
.....
.....
.....
.....
.....



سال نو مبارک

اجتماعی

۳- اگر شما همیار پلیس راه باشید، به خانواده‌هایی که می‌خواهند به مسافرت بروند، چه توصیه‌هایی می‌کنید؟

.....
.....
.....

۴- تشکیل شوراهای دانش‌آموزی و برگزاری جلسات متعدد در مدرسه علامه طباطبایی واحد آشناسان:

(الف) چه نتایجی را به دنبال داشته است؟

.....
.....

(ب) آیا نمایندگان به تعهدات خود عمل کرده‌اند؟

.....
.....

(ج) کدام اهداف مورد بررسی به نتیجه رسیده است؟

(د) کدام اهداف توسط نمایندگان شورای مدرسه انجام شده است؟ چه ایده و نظراتی برای اجرای برنامه‌های نمایندگان بعد از تعطیلات دارید؟

.....
.....
.....



سال نو مبارک

هدیه

۴- علی و محمد با یکدیگر قرار گذاشتند در تعطیلات عید نوروز در پارک محله‌شان بازی کنند. در یکی از روزها تویی در پارک پیدا کردند که صاحب توپ، آن حوالی نبود. علی رو به محمد کرد و گفت: «با تویی که صاحب آن مشخص نیست، حضری بازی کنیم؟ ولی محمد گفته‌ی علی را قبول نکرد و گفت: این کار درستی نیست» و علی خود مشغول بازی شد.

با توجه به متن بالا به سوالات زیر پاسخ دهید:

الف) به نظر شما چرا محمد پیشنهاد علی را نپذیرفت؟

.....

.....

ب) اگر شما به جای علی بودید چه می‌کردید؟

.....

.....

ج) برای اینکه دیگران از شما دلخوری نداشته باشند، از انجام چه کارهایی پرهیز می‌کنید؟

.....

.....



سال نو مبارک

هدیه

۱- با فرا رسیدن فصل بهار و شکفتن گل‌ها به یاد نظم و هماهنگی در پیدایش فصل‌ها و نظمی که در جهان اطرافمان وجود دارد، می‌افتیم. به نظر شما این نظم و هماهنگی نشانه‌ی چیست؟

.....

۲- با توجه به اینکه خداوند اسراف‌کاران را دوست ندارد، راه‌حل پیشنهادی شما برای پرهیز از اسراف در عید نوروز چیست؟

.....

.....

۳- با توجه به فرموده‌ی امام صادق (ع): «بدترین مردم نزد خدا کسی است که مردم از شر زبان او در امان نباشند.»

شما برای اینکه با زبانتان دیگران را اذیت نکنید، چه کارهایی را انجام می‌دهید؟

.....

.....



سال نو مبارک

کارنامه سبز

یک کارنامه فعالیت‌های سبز تهیه کنید. در این کارنامه کارهایی را که به همراه خانواده برای حفظ محیط زیست در ایام نوروز انجام داده‌اید، ثبت کنید. مانند تفکیک زباله، کاشت گیاهان و این کارنامه می‌تواند شامل عکس‌ها و یادداشت‌های روزانه باشد.



سال نو مبارک

مسابقه عکاسی

زیباترین تصاویری که در طبیعت می‌بینید، را در قالب دوربین ثبت کنید. پس از پایان نوروز در مسابقه عکاسی دبستان‌های علامه طباطبایی می‌توانید عکس‌ها را به اشتراک بگذارید.



داستان نویسی

یک داستان فانتزی درباره یک موجود خیالی بنویس که به محافظت از طبیعت و محیط زیست کمک می‌کند. او با چالش‌های زیست محیطی مواجه می‌شود و راه‌حلی برای بهبود اوضاع پیدا می‌کند.





بازی کنیم
یاد بگیریم

پسر عزیزم می تونی وارد لینک های زیر بشی و از بازی کردن لذت ببری.

https://www.mathplayground.com/ASB_Puppy_Chase_Decimals.html



https://mathink.ir/wp-content/uploads/۲۰۲۱/۰۴/fractions-equality_fa.html

کسر ها: تساوی



آزمایشگاه تساوی

https://www.mathplayground.com/ASB_TugTeamFractions.html



بازی کنیم
یاد بگیریم

پسر عزیزم می تونی وارد لینک های زیر بشی و از بازی کردن لذت ببری.

<https://www.free-training-tutorial.com/percentage/towncreator/tc-percentage.html>



https://www.mathplayground.com/mobile_overlay.html?gameUrl=treasure_quest_multiplication_chart%۲Findex.html&gameWidth=۷۶۸&gameHeight=۵۷۶

TREASURE QUEST MULTIPLICATION

X	1	2	3	4	5	6	7	8	9
1									
2									
3									
4									
5									
6									
7									
8									
9									

FACTOR RANGES

1 to 9

1 to 10

1 to 12

RESET

TARGET

2

54

MathPlayground.com

مبارکبادت این سال و همه سال

